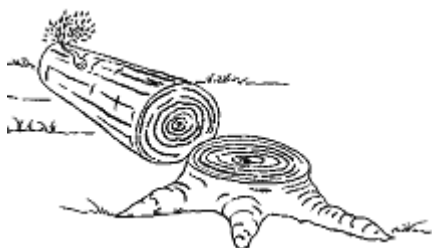


Matemática 3º ano

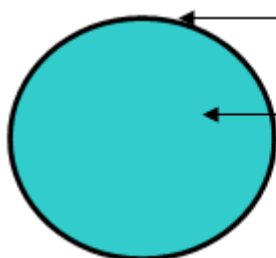
A circunferência e o círculo

Nome: _____ Data: _____

Observa a circunferência e o círculo.



O corte do tronco do pinheiro apresenta a **forma circular**.



Circunferência

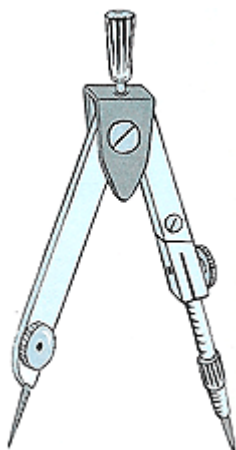
Círculo




A linha que serve de fronteira ao círculo chama-se **circunferência**.



O espaço limitado pela circunferência designa-se por **círculo**.




O **compasso** é um instrumento que serve para traçar **circunferências**.



A Gisela desenha circunferências no quadro, utilizando o **compasso**.

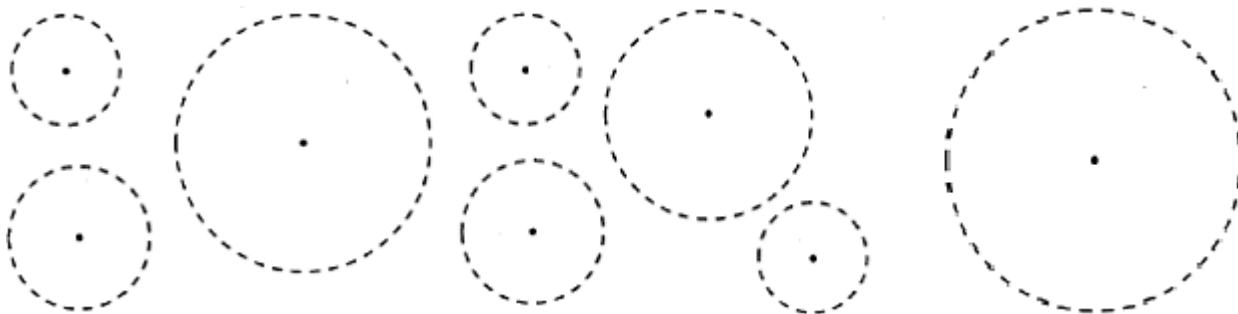
O Gabriel traça uma circunferência, no pátio de recreio da escola, pelo **processo do jardineiro**.

Para isso, utiliza um cordel e dois pregos na sua extremidades.



Podes traçar circunferências diferentes usando o compasso com diferentes aberturas.

Cobre as circunferências, utilizando o compasso. Pinta os círculos.



Utilizando o compasso, completa o friso. Pinta-o a teu gosto

